

# HOLIDAY HOMEWORK

## ENGLISH – CLASS 1

Do the following activities on any light colored A4 sheet.

1. Word search game:

Find 'ee' sound words

S	T	H	F	E	K	Q
L	P	E	T	E	E	K
E	E	E	E	E	N	B
E	K	H	E	E	E	P
P	C	E	E	H	E	T
X	E	D	E	E	S	G
S	J	P	P	P	B	T

Q2: Father's day is observed on every third Saturday of June. This day is celebrated to honour all the father figures for their contribution in the lives of their children. Hence for this special day sit together with your father and ask him the questions given below.

MY DAD!

My dad's name is

\_\_\_\_\_.

He is \_\_\_\_\_ years old.

His hobby is

\_\_\_\_\_

—.

He is best at

\_\_\_\_\_

—.

He is happy when

\_\_\_\_\_.

He is sad when

\_\_\_\_\_.

ग्रीष्मावकाश कार्य

हिन्दी –कक्षा पहली

सभी कार्य स्क्रेप फाइल में करें –

1 क से लेकर न तक जितने भी वर्ण हैं। उन पर अ, आ, इ, ई की मात्राओं का प्रयोग करते हुए शब्द बनाओ ।

जैसे—क— कमल कान कितने कील

2 निम्नलिखित शब्दों में स्वरों को रेखांकित करो ।जैसे—अब

ऊपर ऐनक कई औरत आग ओस हुए  
इस एक उस अमर ऋण जाओ पाइप

3 नया शब्द बनाओ । जैसे— मन – मान

कल	_____	दम	_____
पर	_____	हल	_____
जग	_____	चर	_____
कम	_____	रग	_____

4 वर्णों को सही क्रम में लगा कर शब्द बनाओ ।

म ल ग श	_____	य गा	_____
श थ र द	_____	स आ न मा	_____
का ल ड	_____	न ह ब	_____

5 एकवचन और बहुवचन शब्दों को अलग करें –

कार , गलियाँ , खिड़की , मामा , कथाएँ , रानियाँ , कमरे , गाड़ियाँ ,  
किताब , बेटा

एकवचन

बहुवचन

\_\_\_\_\_

\_\_\_\_\_

6 पहेलियों के उत्तर दो -

- 1 एक थाल मोती से भरा, सबकेसिर पर उल्टा धरा ,  
जैसे - जैसे थाल फिरे, मोती उससे एक न गिरे ।
- 2 मैं कागज़ से बनती हूँ , रंग-बिरंगी होती हूँ  
डोरी पर जब चढ़ जाती हूँ , आकाश में उड़ जाती हूँ ।
- 3 एक लाठी की सुनो कहानी , छुपा है इसमें मीठा पानी ।
- 4 दो अक्षर का मेरा नाम , पानी देना मेरा काम  
सभी घरों में होता हूँ , सबको पानी देता हूँ ।

### परियोजन कार्य

- 1 अपने कमरे का निरीक्षण करें तथा वह वस्तुएँ जिनके नाम में आ,इ,ई की मात्रा आती हो उनका चित्र बनाओ तथा नाम लिखो ।
- 2 गरमी के मौसम में खाए जाने वाले फल और सब्जियों के चित्र चिपका कर उनके नाम लिखो ।
- 3 किसी भी एक कविता को हाव- भाव के साथ याद करो ।

( माँ, जल, पेड़ )

- 5 आ ,इ,ई मात्राओं का अभ्यास करें तथा 10 श्रुतलेख लिखें ।

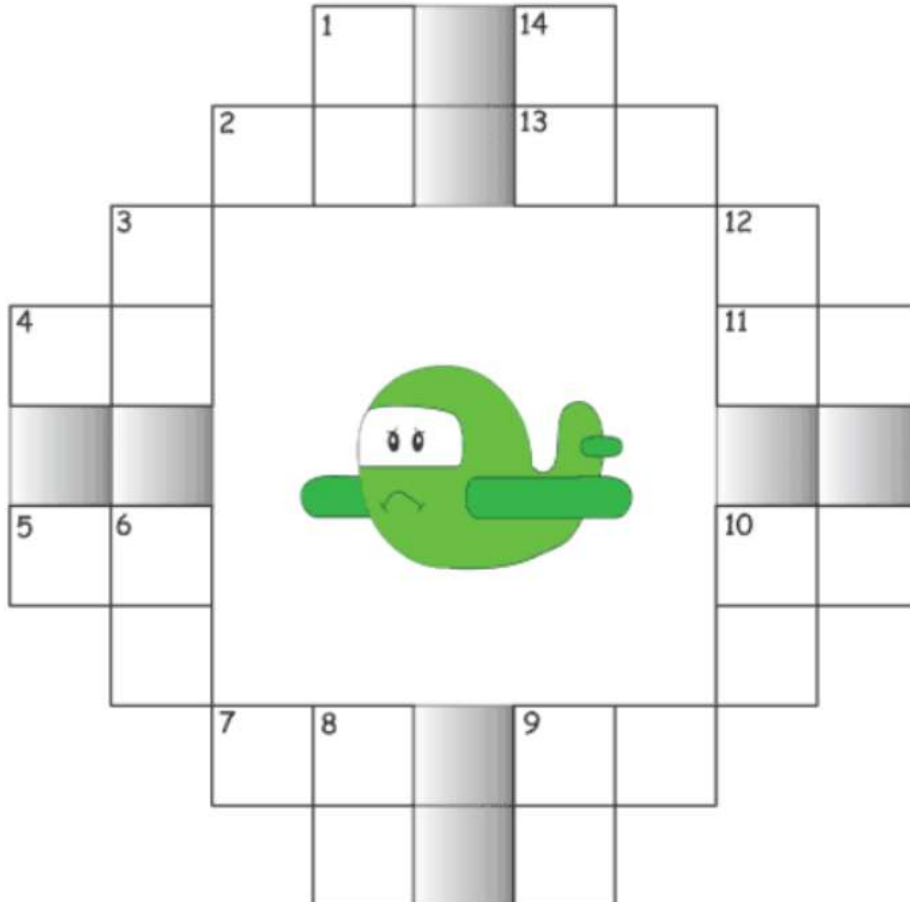
## Holiday Home Work Maths (2019-20)

### Class 1

Q.1. Solve the following and write answer in the figure given at same number place.

S.No.	Down	S.No.	Across
1	$6 + 5 = \underline{\hspace{2cm}}$	2	$12 - 1 = \underline{\hspace{2cm}}$
3	$15 - 3 = \underline{\hspace{2cm}}$	4	$8 + 4 = \underline{\hspace{2cm}}$
6	$20 - 10 = \underline{\hspace{2cm}}$	5	$10 + 1 = \underline{\hspace{2cm}}$
8	$39 + 1 = \underline{\hspace{2cm}}$	7	$15 - 1 = \underline{\hspace{2cm}}$
9	$19 + 1 = \underline{\hspace{2cm}}$	9	$20 + 0 = \underline{\hspace{2cm}}$
10	$10 + 8 = \underline{\hspace{2cm}}$	10	$10 + 3 = \underline{\hspace{2cm}}$
12	$20 + 1 = \underline{\hspace{2cm}}$	11	$6 + 6 = \underline{\hspace{2cm}}$
14	$13 - 1 = \underline{\hspace{2cm}}$	13	$20 + 0 = \underline{\hspace{2cm}}$

## Addition and Subtraction



**Q.2. What will you get if you add 2 to given numbers.**

$10 \quad \underline{\quad}$

$4 \quad \underline{\quad}$

$9 \quad \underline{\quad}$

$8 \quad \underline{\quad}$

$5 \quad \underline{\quad}$

$1 \quad \underline{\quad}$

**Q.3. What will you get if you subtract 1 from given numbers.**

$1 \quad \underline{\quad}$

$6 \quad \underline{\quad}$

$2 \quad \underline{\quad}$

$9 \quad \underline{\quad}$

$8 \quad \underline{\quad}$

$4 \quad \underline{\quad}$

**Q.4. Write first name of all your family members. Count the number of alphabets in it and write the number name. Example**

S.No.	Name	No. of alphabets used	Number name
1	Amit	4	four
2			
3			
4			

**Q.5. Form numbers -**

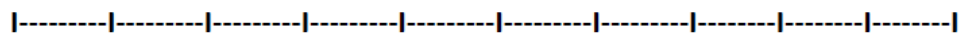
$5 \text{ tens and } 3 \text{ ones} = \underline{\quad}$

$9 \text{ ones} = \underline{\quad}$

$1 \text{ tens} = \underline{\quad}$

**Q.6. Add using number line:**

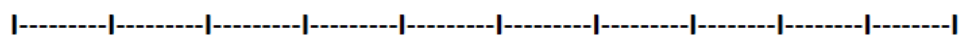
$4 + 3 =$



0    1    2    3    4    5    6    7    8    9    10

**Q.7. Subtract using number line:**

$10 - 5 =$



0    1    2    3    4    5    6    7    8    9    10

## ENVIRONMENTAL STUDIES (E.V.S)

### GOOD HABITS AND GOOD DEEDS ARE ESSENTIAL FOR A HAPPY LIFE

1. Choose any one topic from the Value Education given below:

- (A) I love my Family
- (B) Not wasting Food
- (C) Care for Animals
- (D) Being Polite
- (E) Safety

- Perform a deed that depicts the value chosen by you.
- Click a Photograph of you performing the deed.
- Develop a Postcard Size Photograph.
- Make a Beautiful Handmade Photo frame using the photograph.

2. Visit any 2 of the following places with your family

- Zoo
- Traffic Training Park
- Rail/Doll Museum
- Children's Park
- Ride in HOHO Bus
- Bank/Post Office
- Any other Historical Monument

Click photographs and make a collage on an A3 SIZE sheet. Also write 4-5 lines about your experience.

### 3. COGNITIVE THINKING

#### CAUSE AND EFFECT

Match with the correct one.

It begins to rain.

She won the race.

It is Gaurav's birthday.

I felt hungry during the class.

Radha practiced for the race.

We had to take our umbrellas.

Ramesh touched the hot pan.

He had a party with his friends.

I did not eat breakfast.

He burnt his hand.

Art – Warli Painting on half size chart paper.